

Задание 8 Анализ диаграмм

1.

На диаграмме показано содержание питательных веществ в ядрах кедровых орехов.



*к прочему относятся вода, витамины и минеральные вещества

Определите по диаграмме, сколько примерно жиров содержится в 50 г кедровых орехов.

1) около 30 г

3) около 110 г

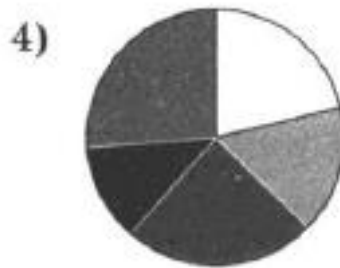
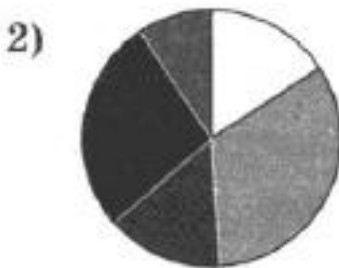
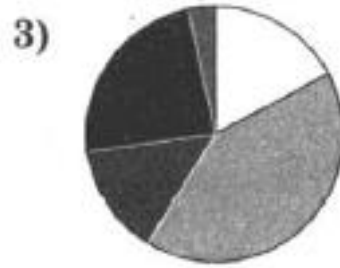
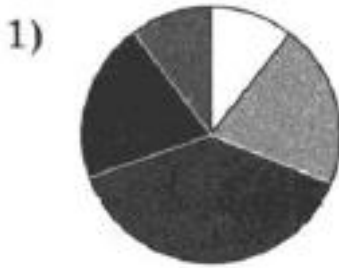
2) около 10 г

4) около 20 г

В ответе запишите номер выбранного варианта.

2.

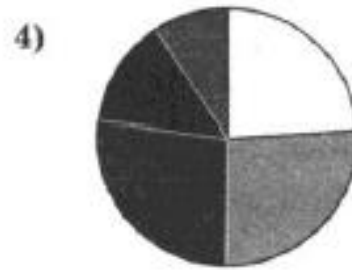
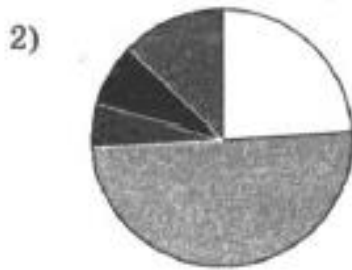
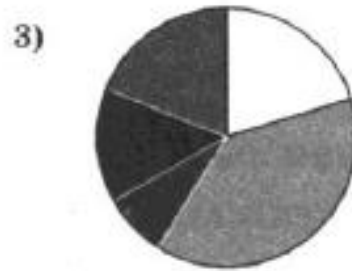
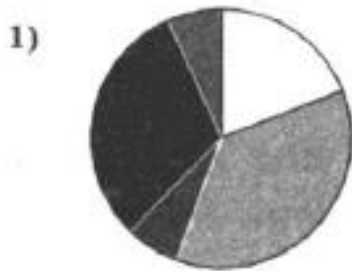
Какая из следующих круговых диаграмм показывает распределение грибов в лесу, если белых грибов примерно 16%, мухоморов — примерно 33%, лисичек — примерно 14%, сыроежек — примерно 26% и других грибов — примерно 11%?




- белые грибы
- мухоморы
- лисички
- сыроежки
- другие грибы


3.


Какая из следующих круговых диаграмм показывает распределение грибов в лесу, если белых грибов примерно 21%, мухоморов — примерно 39%, лисичек — примерно 6%, сыроежек — примерно 16% и других грибов — примерно 18%?




 белые грибы

 сыроежки


 мухоморы

 другие грибы

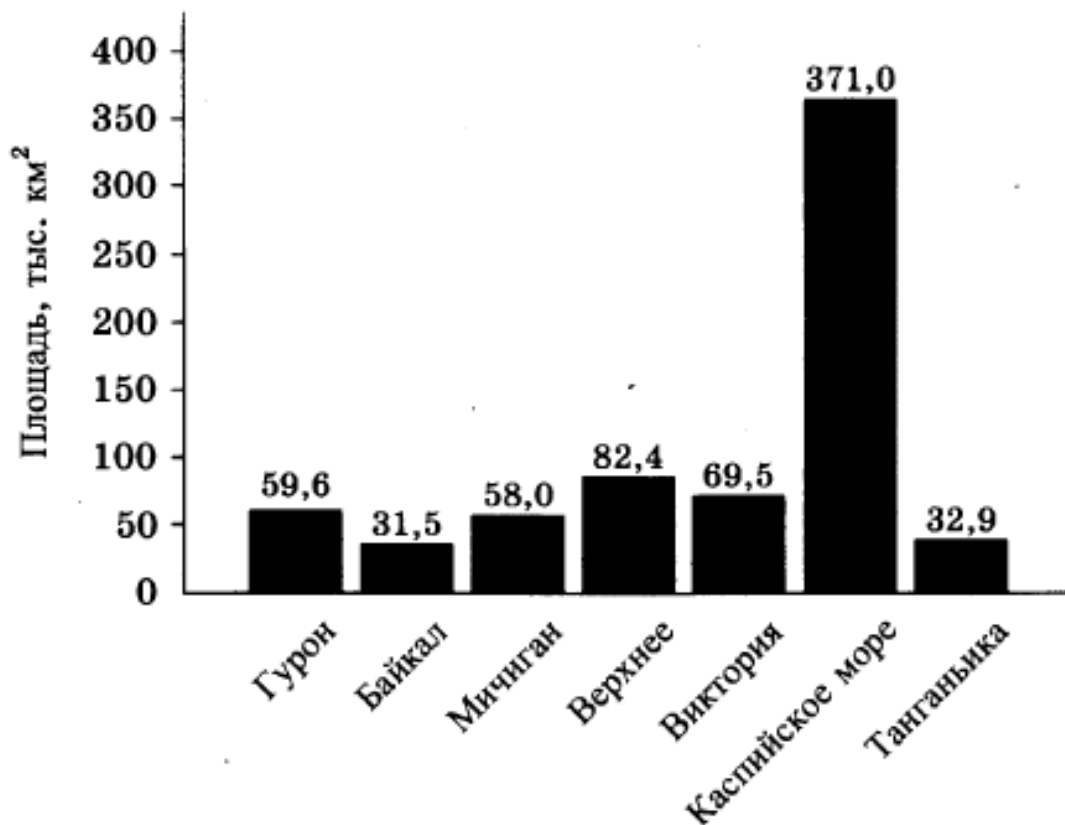
 лисички

4.

Какая из следующих круговых диаграмм показывает распределение грибов в лесу, если белых грибов примерно 41%, мухоморов — примерно 17%, лисичек — примерно 9%, сыроежек — примерно 21% и других грибов — примерно 12%?



На диаграмме показаны площади семи крупнейших озёр мира. Данные округлены до десятых.



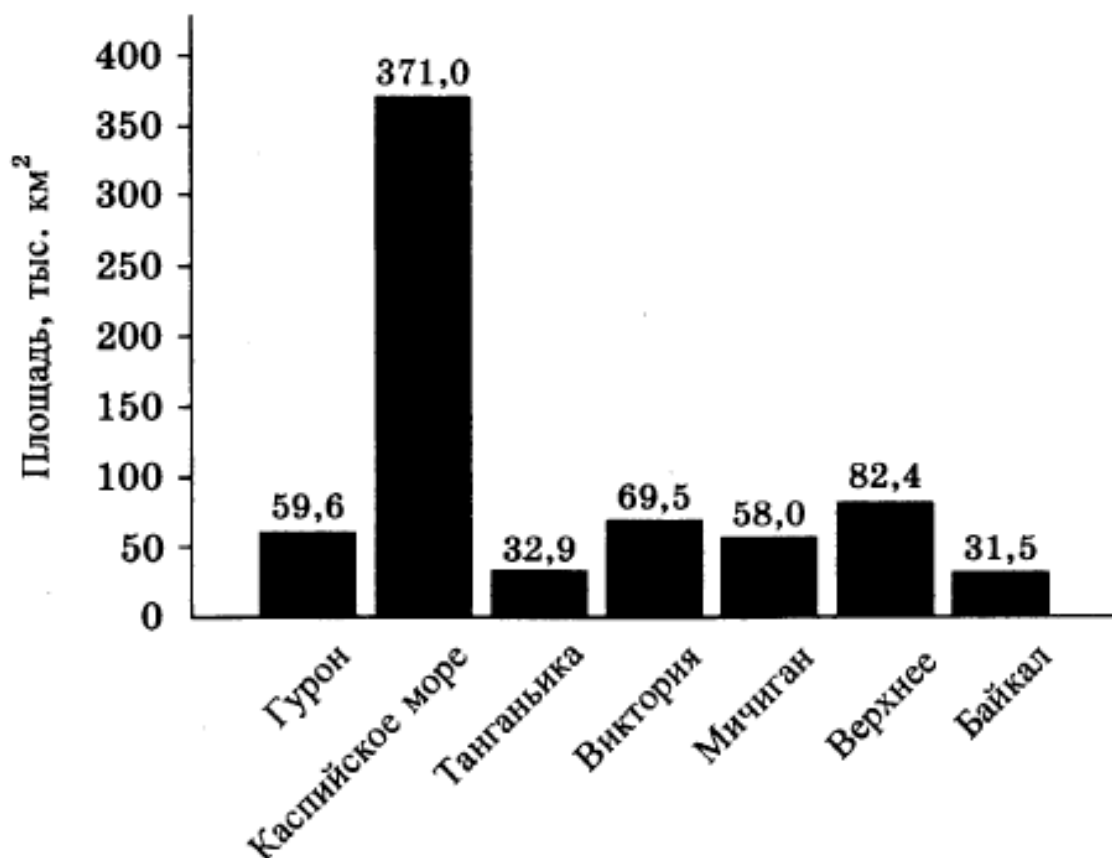
Какие из следующих утверждений верны?

- 1) Площадь озера Байкал меньше площади озера Виктория примерно на 38 тыс. км².
- 2) Площадь Каспийского моря больше площади озера Верхнее менее, чем втрое.
- 3) Озеро Гурон входит в тройку крупнейших по площади озёр мира.
- 4) Площадь озера Мичиган составляет примерно 58 тыс. км².

В ответ запишите номера выбранных утверждений без пробелов, запятых и других дополнительных символов.

6.

8. На диаграмме показаны площади семи крупнейших озёр мира. Данные округлены до десятых.



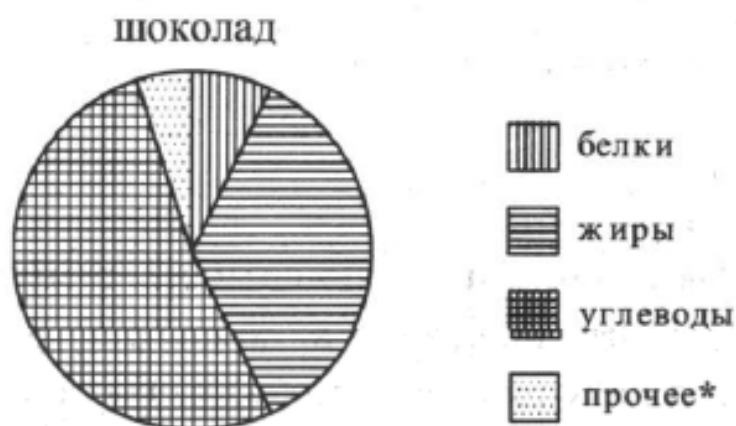
Какие из следующих утверждений верны?

- 1) Озеро Мичиган — крупнейшее в мире по площади.
- 2) Озеро Байкал входит в шестёрку крупнейших по площади озёр мира.
- 3) Площадь озера Гурон больше площади озера Танганьика примерно на 26,7 тыс. км².
- 4) Площадь Каспийского моря больше площади озера Верхнее более, чем вчетверо.

В ответ запишите номера выбранных утверждений без пробелов, запятых и других дополнительных символов.

7.

На диаграмме показано содержание питательных веществ в молочном шоколаде. Определите по диаграмме, содержание каких веществ превосходит 25%.



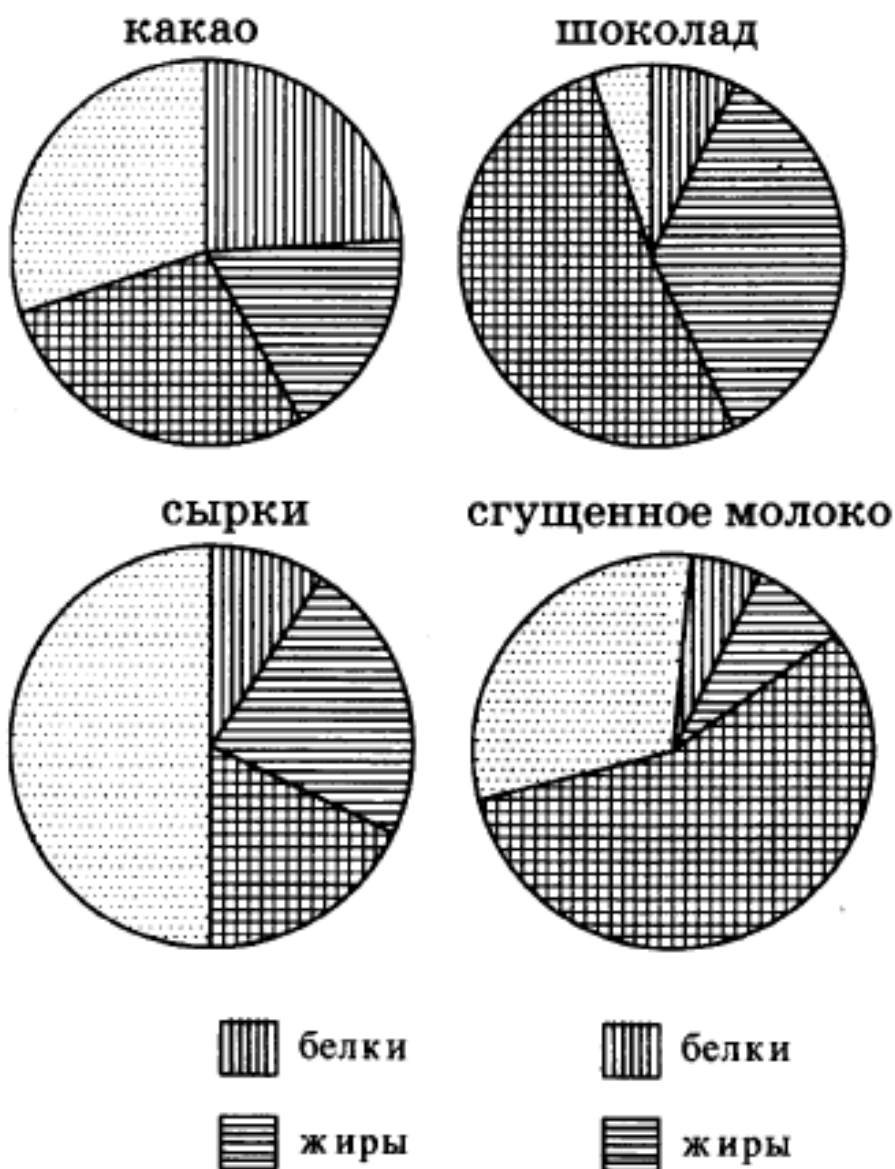
*к прочему относятся вода, витамины и минеральные вещества

- | | |
|----------|-------------|
| 1) жиры | 3) углеводы |
| 2) белки | 4) прочее |

В ответе запишите номера выбранных вариантов ответов без пробелов, запятых и других дополнительных символов.

8.

На диаграмме показано содержание питательных веществ в какао, молочном шоколаде, творожных сырках и сгущённом молоке. Определите по диаграмме, в каких продуктах суммарное содержание жиров и углеводов превышает 50%.



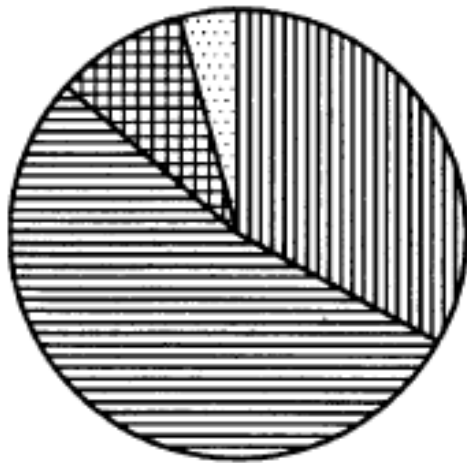
*к прочему относятся вода, витамины и минеральные вещества.

- 1) какао
- 2) шоколад
- 3) сырки
- 4) сгущённое молоко

9.

На диаграмме показан возрастной состав населения Бангладеш. Определите по диаграмме, доли населения каких возрастов составляют более 25% от всего населения.

Бангладеш



1) 0-14 лет

3) 51-64 года

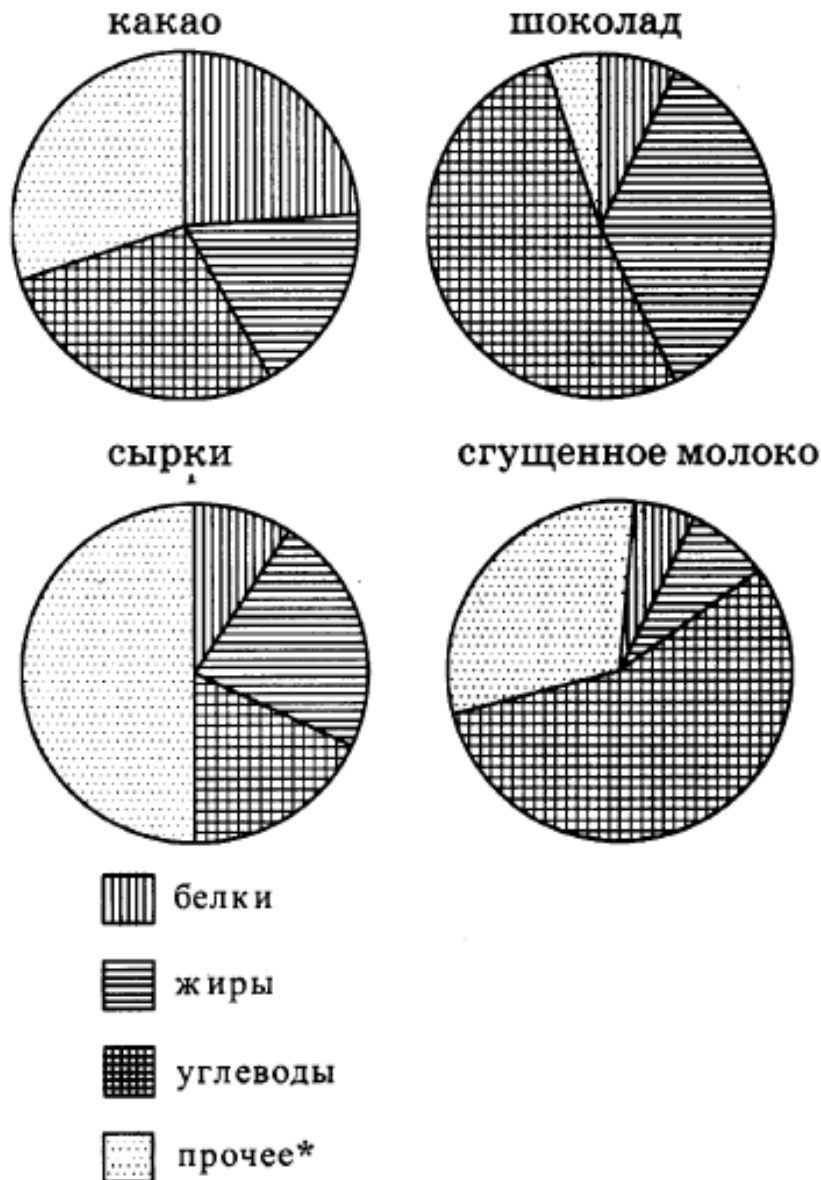
2) 15-50 лет

4) 65 лет и более

В ответ запишите номера выбранных вариантов ответов без пробелов, запятых и других дополнительных символов.

10.

На диаграмме показано содержание питательных веществ в какао, молочном шоколаде, творожных сырках и сгущённом молоке. Определите по диаграмме, в каком продукте содержание жиров наибольшее.

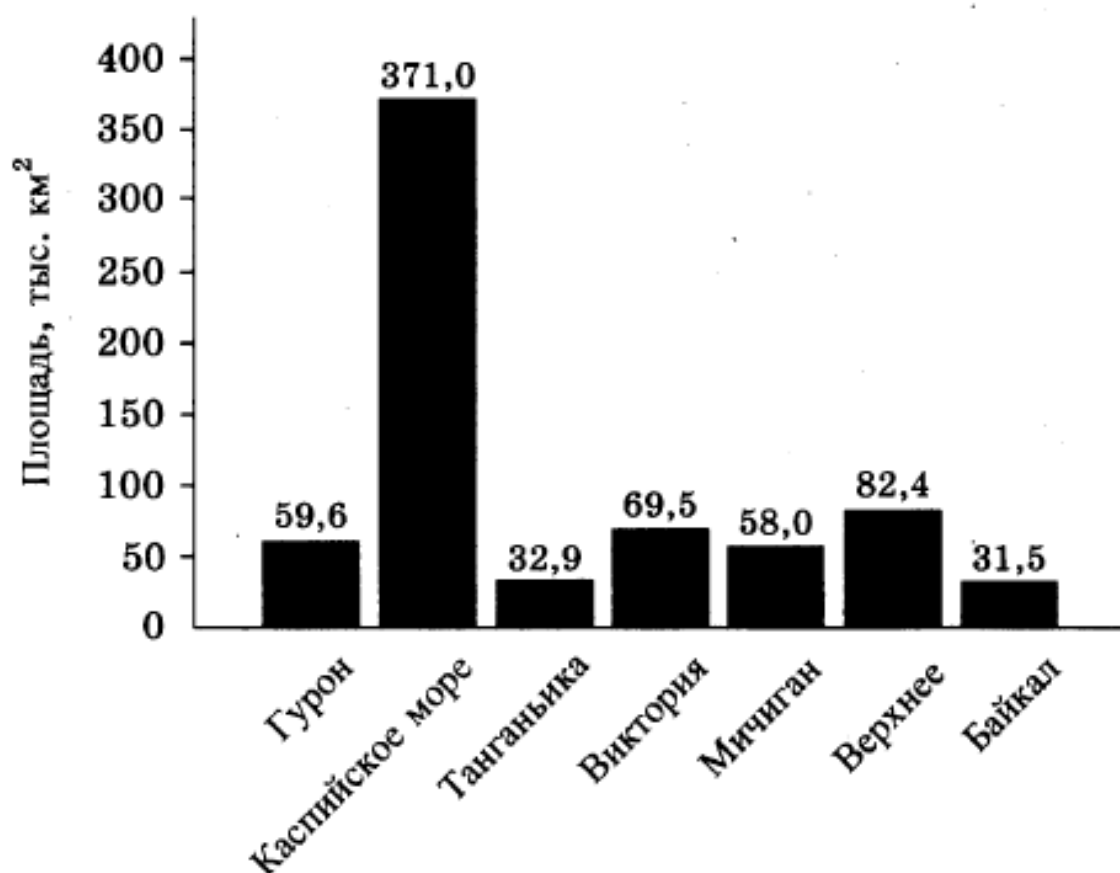


* к прочему относятся вода, витамины и минеральные вещества.

- 1) какао 3) сырки
2) шоколад 4) сгущённое молоко

В ответе запишите номер выбранного варианта ответа.

На диаграмме показаны площади семи крупнейших озёр мира. Данные округлены до десятых.



Какие из следующих утверждений **неверны**?

- 1) Каспийское море является крупнейшим по площади озером в мире.
- 2) Площадь озера Виктория меньше, чем площадь озера Гурон.
- 3) Озеро Гурон входит в пятёрку крупнейших по площади озёр мира.
- 4) Площадь озера Виктория составляет 68 тыс. км².

В ответ запишите номера выбранных утверждений без пробелов, запятых и других дополнительных символов.

12.

На диаграммах показано содержание питательных веществ в какао, молочном шоколаде, творожных сырках и сгущённом молоке.

Определите по диаграммам, в каком продукте содержание белков превышает 20%.



*к прочему относятся вода, витамины и минеральные вещества

1) какао

3) сырки

2) шоколад

4) сгущённое молоко

В ответе запишите номер выбранного варианта ответа.

13.

На диаграммах показано распределение земель по категориям Уральского, Приволжского, Южного и Сибирского федеральных округов. Определите по диаграммам, в каких округах доля земель сельскохозяйственного назначения превышает 50%.



*Прочие земли — это земли поселений; земли промышленности и иного специального назначения; земли особо охраняемых территорий и объектов

- 1) Уральский ФО 3) Южный ФО
2) Приволжский ФО 4) Сибирский ФО

В ответ запишите номера выбранных вариантов ответов без пробелов, запятых и других дополнительных символов.